

8 二位數的加法減法

8-1 二位數的加法

放大 一 把做法用算式記下來。

- 解答** (1) 校車上原有 21 個學生，又上來 5 個，校車上現在共有幾個學生？

算式： $21 + 5 = 26$



有 (26) 個

- 放大** (2) 教練一雙手提了 30 個網球，另一隻手提了 8 個，教練共提了幾個網球？

算式： $30 + 8 = 38$



提了 (38) 個

放大 二 算算看看。

解答

(1) $21 + 17 = 38$

(做法請兒童自行發表)

(2) $5 + 14 = 19$

放大 三 把做法用算式記下來。

解答

- (1) 魔術營有 22 個人參加，又加入 15 個人，魔術營現在共有幾個人參加？

算式： $22 + 15 = 37$



有 (37) 個人

- 放大** (2) 停車場裡有 16 輛汽車，又開來 13 輛，停車場裡現在共有幾輛汽車？


解答

算式： $16 + 13 = 29$



有 (29) 輛

解答 四 沿著答案為 30 的算式，畫出小雞找到媽媽的路線。



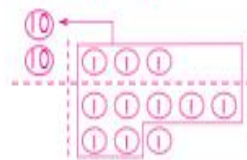
(畫法僅供參考)

放大 五 畫出 ⑩ 和 ① 做做看看，並用算式記下來。

解答

(1) 投籃遊戲中，小新已經投進 13 球，接著又投進 8 球，小新共投進幾球？

算式： $13+8=21$



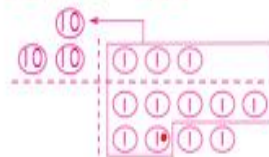
投進 (21) 球

放大

解答

(2) 姐姐排隊等公車，她排在第 23 個，後面還排了 9 個人，共有幾個人在排隊？

算式： $23+9=32$



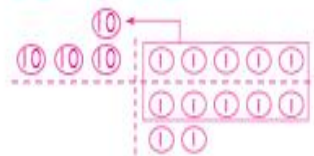
有 (32) 個人

放大

解答

(3) 阿姨包了 35 個粽子，奶奶包了 7 個，兩人共包了幾個粽子？

算式： $35+7=42$



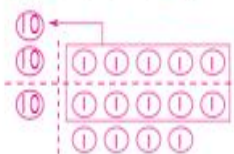
包了 (42) 個

放大 六 畫出 10 和 10 做看看，並用算式記下來。
解答

(畫法僅供參考)

- (1) 小俊參加跳繩訓練，第一次跳了 15 下，第二次跳了 19 下，兩次共跳了幾下？

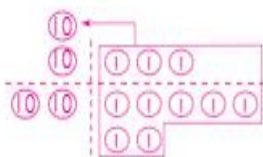
算式： $15 + 19 = 34$



跳了 (34) 下

放大 七 魚缸裡有 13 隻金魚，老闆再放進 27 隻金魚，魚缸裡共有幾隻金魚？
解答

算式： $13 + 27 = 40$



有 (40) 隻


(做法請兒童自行發表)

放大 七 算算看看。

(1) $16 + 37 = 53$

(2) $14 + 19 = 33$

解答 八 先算算看看，再把答案是 43 的算式圈起來。



8-2 二位數的減法

放大 一 把做法用算式記下來。

解答

- (1) 阿光有 16 本故事書，借給小強 5 本後，阿光還剩下幾本故事書？

$$\text{算式： } 16 - 5 = 11$$



剩下 (11) 本

- 放大** (2) 帽子店裡有 26 頂帽子，賣掉 6 頂後，還剩下幾頂帽子？

解答

$$\text{算式： } 26 - 6 = 20$$



剩下 (20) 頂

- 放大** (3) 一年 1 班有 28 個學生，今天有 2 個學生請假，上課的學生有幾個？

解答

$$\text{算式： } 28 - 2 = 26$$



有 (26) 個

放大

解答

二 把做法用算式記下來。

- (1) 2016 年的奧運會，英國和日本共獲得 39 枚金牌，日本獲得 12 枚金牌，英國獲得幾枚金牌？

$$\text{算式： } 39 - 12 = 27$$



獲得 (27) 枚

放大

解答

- (2) 小欣摺了 46 隻飛馬，送出 24 隻，還剩下幾隻飛馬？

$$\text{算式： } 46 - 24 = 22$$



剩下 (22) 隻

(做法請兒童自行發表)

放大

解答

三 算算看。

$$(1) 25 - 12 = \boxed{13}$$

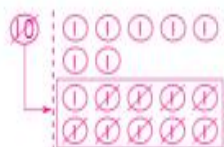
$$(2) 46 - 26 = \boxed{20}$$

放大 四 畫 ⑩ 和 ① 做 做 看 看，並 用 算 式 記 下 來。

解答

- (1) 奶 奶 買 了 17 個 橘 子，全 家 人 吃 掉 了 9 個，還 剩 下 幾 個 橘 子？

算 式： $17 - 9 = 8$



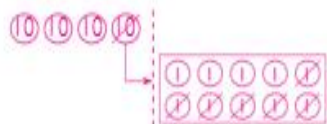
剩 下 (8) 個

放大

解答

- (2) 籃 子 裡 有 40 個 蘋 果，青 蘋 果 有 6 個，其 他 是 紅 蘋 果，紅 蘋 果 有 幾 個？

算 式： $40 - 6 = 34$



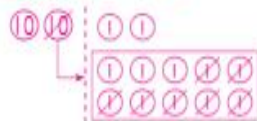
有 (34) 個

放大

解答

- (3) 一 年 2 班 有 22 個 人 參 加 趣 味 競 賽，其 中 女 生 有 7 個 人，男 生 有 幾 個 人？

算 式： $22 - 7 = 15$



有 (15) 個 人

放大 五 看 圖 想 一 想，並 圈 出 看。



放大



放大

解說

解答

- (1) 30 顆 橡 果，送 爺 爺 6 顆，剩 下 21 顆 橡 果，對 不 對？

(對 ， 不 對)

解說

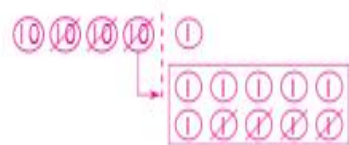
- (2) 如 果 啄 木 鳥 沒 有 吃 走 橡 果，花 栗 鼠 會 剩 下 幾 顆 橡 果？

(23 顆 ， 24 顆 ， 25 顆)

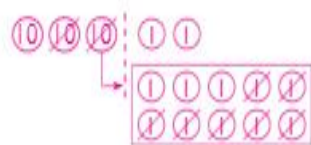
放大 六 先畫⑩和①，再做做看看。

解答

$$(1) 41 - 24 = 17$$



$$(2) 32 - 17 = 15$$



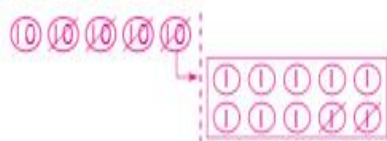
放大 七 畫⑩和①做做看看，並用算式記下來。



放大 (1) 巧克力比拐杖糖多幾元？

解答

$$\text{算式：} 50 - 32 = 18$$

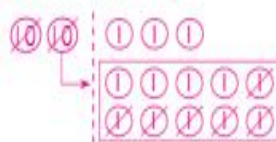


多 (18) 元

放大 (2) 水果糖比棒棒糖少幾元？

解答

$$\text{算式：} 23 - 16 = 7$$



少 (7) 元

8-3 加法和減法的關係

放大 一 看圖填填看看。

解答



$$\textcircled{1} 7 + 9 = 16$$

$$\textcircled{2} 16 - 9 = 7$$

放大

解答




$$\textcircled{1} 8 + 3 = 11$$

$$\textcircled{2} 11 - 8 = 3$$

放大

解答



$$\textcircled{1} 12 - 5 = 7$$

$$\textcircled{2} 7 + 5 = 12$$