

9 做紀錄

9-1 分類與記錄

放大 一 把動物分成兩組，可以怎麼分？



放大
解答

- | | | |
|-----|-------|---------|
| (1) | 拿爆米花 | (8) 隻 |
| | 拿著薯條 | (4) 隻 |
| (2) | 戴藍色眼鏡 | (7) 隻 |
| | 戴紅色眼鏡 | (5) 隻 |

放大 二 分分看看，填填看看。



放大
解答





- (1) 把顏色一樣的分成一堆：
- ① 藍色的有 (7) 個。
 - ② 橘色的有 (6) 個。
 - ③ 綠色的有 (7) 個。
- (2) 把種類一樣的分成一堆：
- ① 窗戶有 (9) 扇。
 - ② 燈有 (6) 盞。
 - ③ 門有 (5) 扇。



三 數一數，每種雨具的數量各有多少？把結果用○表示，並記在下表中。



解答

	○	○	○	○	○	
	○	○	○	○	○	○
	○	○	○	○	○	○
	○	○	○			

○	○	○
○		

解答

	有 (5) 雙
	有 (9) 件
	有 (7) 把
	有 (3) 頂

9-2 完成和報讀統計表

放大解答 一下表是「一年5班」票選最喜歡「夜市美食」。完成下表，並回答問題。

食物					
票選紀錄	★★★★★	★★★★★	★★★★★	★★★★★	★★★★
數量(票)	7	6	5	8	3

- 放大解答**
- 喜歡  的有 人。
 - 喜歡  的有 人。
 - 最受歡迎的「夜市美食」是 (, , )。
 - 「一年5班」每人各投1票，共有 人參加投票。



放大 二 有4個小朋友比賽套圈，下表是每人套中幾個數的紀錄表，看表回答問題。

小語	正正正正
小翔	正正正正正一
小彤	正下
小宥	正丁

放大 (1) 把紀錄結果填入表格中。

解說
解答

姓名	小語	小翔	小彤	小宥
套中個數(個)	19	26	8	7

- 解說** (2) **小翔** 套中最多個，是 個。
- 解說** (3) **小宥** 套中最少個，是 個。
- 解說** (4) **小翔** 套中的個數比 **小語** 多 個。
- 解說** (5) **小語** 和 **小彤** 共套中 個。










放大 三 看看圖，做紀錄，並回答下面問題。



放大
解答

項目				
畫記	正一	下	正	正
數量	6 隻	3 個	4 隻	4 個

放大
解答

- (1)  有 (4) 個。
- (2)  比  少 (2) 隻。
- (3) 哪一種項目的數量最少？圈查看。
( ,  ,  , )

放大 四 下面是「咖啡廳」上個月每天最暢銷蛋糕紀錄表，看看表回答問題。

日	一	二	三	四	五	六
			1 	2 	3 	4 
5 	6 	7 	8 	9 	10 	11 
12 	13 	14 	15 	16 	17 	18 
19 	20 	21 	22 	23 	24 	25 
26 	27 	28 	29 	30 	31 	

放大 (1) 依照上面的紀錄表，把結果用「正」字畫記，並填上數字。

解答

項目				
畫記	正正一	正正	正	正丁
天數(天)	11	9	4	7

放大

解答

- (2)  比  多 (2) 天。
- (3)  比  少 (3) 天。

綜合練習二

配合課本 加油站二

放大 1 完成以下月份的月曆，並回答問題。



放大 解答 (1) 端午節是星期 一，圍棋比賽是星期 三。

(2) 如果今天是6月17日，是星期 四，昨天會是 6 月 16 日，星期 三，明天會是 6 月 18 日，星期 五。

(3) 6月有 4 個星期一，是哪幾天？在月曆上圈出來。

放大 2 看圖回答問題。



放大 解答 (1) 布魯諾買了兩輛玩具警車，共花了幾元？
 $24 + 24 = 48$

(2) 羅伊有50元，買了一輛玩具消防車後，還剩下幾元？
 $50 - 38 = 12$

放大 解答 (3) 史普奇買了一輛玩具挖土機和一輛玩具警車，共要付幾元？
 $26 + 24 = 50$

(4) 一架玩具直升機和一艘玩具船，相差幾元？
 $45 - 36 = 9$

付 (50) 元 相差 (9) 元

放大 3 下面是上個月的氣候紀錄表，看看表回答問題。

日	一	二	三	四	五	六
		1	2	3	4	5
6	7	8	9	10	11	12
13	14	15	16	17	18	19
20	21	22	23	24	25	26
27	28	29	30	31		

晴天 雨天 晴時多雲 陰天

放大 解答 (1) 依照上面的紀錄表，把結果記下來。

天氣				
天數 (天)	10	5	7	9

- (2) 上個月的氣候 (晴天, 雨天) 比較多。
 (3) 晴時多雲比陰天少 (2) 天。

放大 4 數數看看，媽媽的錢包裡有幾元？

解答



放大 5 弘弘買了一塊 33 元的草莓鬆餅，

解答

怎麼付錢才會剛好？圈出三種不同的付錢方式。

