



第18回

## 8. 二位數的加減

範圍：二位數的加法

得分

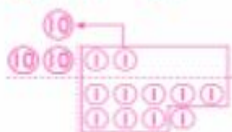
解 一 畫⑩和①做做看，並用算式記下來：

每題14分，共42分

(做法僅供參考)

- (1) 姐姐第一次踢毽子踢了22下，第二次踢了9下，姐姐共踢了幾下？

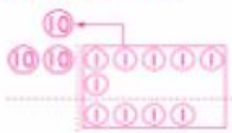
算式： $22+9=31$



(31) 下

- (2) 奶奶養了26隻母雞和4隻公雞，奶奶共養了幾隻雞？

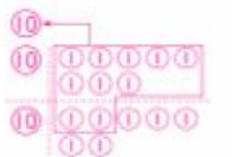
算式： $26+4=30$



(30) 隻

- (3) 公車上原有18個乘客，又上來17個，公車上現在有幾個乘客？

算式： $18+17=35$



(35) 個

解 二 算算看：每題8分，共16分

算式

(1)  $15+27=(42)$

(2)  $16+19=(35)$

解 三 看看做做看：每題14分，共42分

(做法僅供參考)



- (1) 丹丹買了一個乳牛吊飾和一瓶膠水，共要付幾元？

算式： $36+9=45$

(45) 元

- (2) 小琪買了一把剪刀和一块橡皮擦，共要付幾元？

算式： $30+18=48$

(48) 元

- (3) 凱凱買了一把剪刀和一瓶膠水，共要付幾元？

算式： $30+9=39$

(39) 元



## 第19回

## 8. 二、位、數、的、加、減

◎範圍：(2-3) 二位數的算法

原分

解 一 算算看：每題8分，共32分

(1)  $25 - 3 = ( 22 )$  習 77  
頁 141

(2)  $18 - 5 = ( 13 )$  習 77  
頁 141

(3)  $47 - 6 = ( 41 )$  習 77  
頁 141

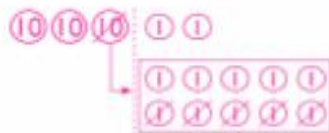
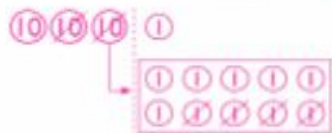
(4)  $23 - 13 = ( 10 )$  習 77  
頁 142

解 二 先畫⑩和①，再做做看：每題8分，共32分

(畫法僅供參考)

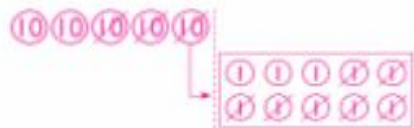
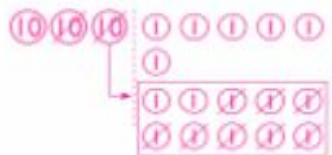
(1)  $31 - 14 = ( 17 )$  習 76  
頁 142

(2)  $32 - 5 = ( 27 )$  習 76  
頁 142



(3)  $36 - 18 = ( 18 )$  習 80  
頁 144

(4)  $50 - 27 = ( 23 )$  習 80  
頁 144



(做法僅供參考)

解 三 把做法用算式記下來：每題9分，共18分

(1) 妹妹有 45 顆糖，

吃掉 3 顆，還剩下幾顆糖？

算式： $45 - 3 = 42$

剩下 ( 42 ) 顆

(2) 姐姐有 36 元，

花了 12 元買文具，姐姐還剩下幾元？

算式： $36 - 12 = 24$

剩下 ( 24 ) 元

解 四 畫⑩和①做做看，並用算式記下來：

每題9分，共18分

(1) 平平有 43 枝彩色

筆，安安有 18 枝，安安的彩色筆比平平的少幾枝？

算式： $43 - 18 = 25$

少 ( 25 ) 枝

(2) 花園裡有 32 朵

花，玫瑰花有 14 朵，其他的都是菊花，菊花有幾朵？

算式： $32 - 14 = 18$

有 ( 18 ) 朵



第20回

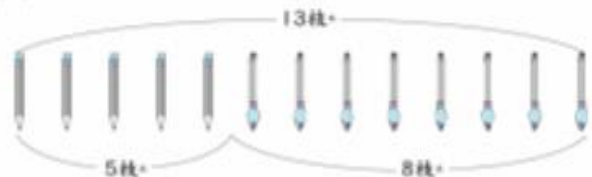
## 8. 二、位、數、的、加、減

◎範圍：(3) 加法和減法的關係

總分

解 一 看圖填填看：每格5分，共40分

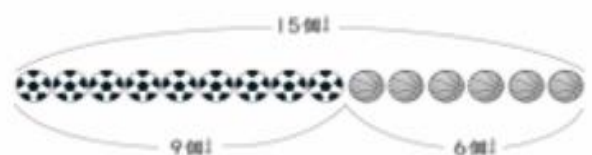
(1)



$5 + 8 = 13$

$13 - 8 = 5$

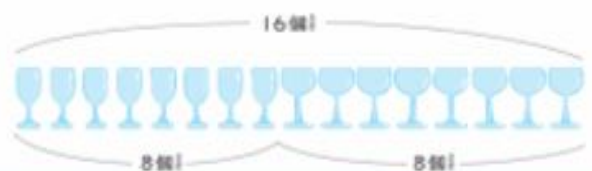
(2)



$9 + 6 = 15$

$15 - 9 = 6$

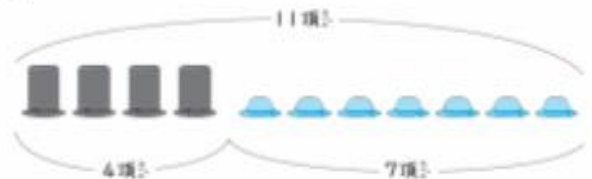
(3)



$8 + 8 = 16$

$16 - 8 = 8$

(4)



$7 + 4 = 11$

$11 - 7 = 4$

〔1下數學〕作業簿— 40

解 二 填填看：每格6分，共48分

(1)  $4 + 8 = 12$

$12 - 4 = ( 8 )$

$12 - 8 = ( 4 )$

(2)  $15 - 8 = 7$

$7 + 8 = ( 15 )$

$15 - 7 = ( 8 )$

(3)  $6 + 5 = 11$

$11 - 5 = ( 6 )$

$11 - 6 = ( 5 )$

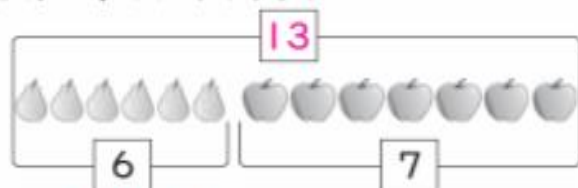
(4)  $14 - 9 = 5$

$14 - 5 = ( 9 )$

$9 + 5 = ( 14 )$

解 三 看圖做做看：每題6分，共12分

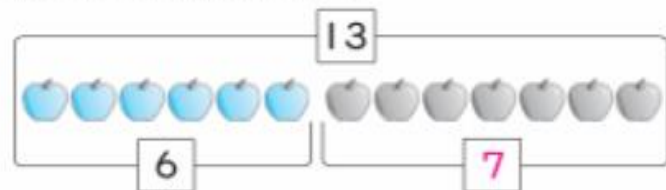
(1) 桌上有6個西洋梨和7個蘋果，桌上共有幾個水果？



算式： $6 + 7 = 13$

有(13)個

(2) 籃子裡有13個蘋果，拿走6個後，還剩下幾個蘋果？



算式： $13 - 6 = 7$

剩下(7)個

〔1下數學〕作業簿— 41





第21回

## 9. 做紀錄

◎範圍：口口分類與記錄

得分

解 一 看圖填填看：每題3分，共12分

圖卡  
圖卡

- (1) 有 ( 7 ) 朵 (2) 有 ( 5 ) 朵  
 (3) 有 ( 6 ) 朵 (4) 共有 ( 18 ) 朵

解 二 每種水果各有幾個？把結果畫○記在下表中！

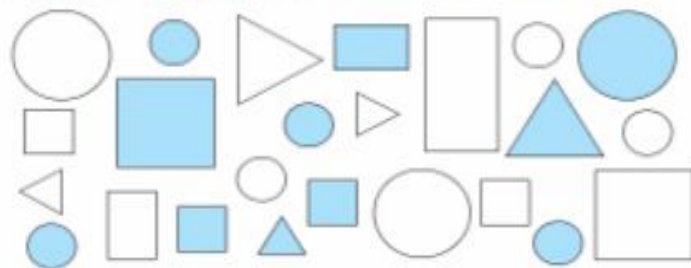
每答4分，共32分



	○	○	○	○	○	○	○	○	○
	○	○	○	○					
	○	○	○	○	○	○			
	○	○	○	○	○				

- (1) 有 ( 9 ) 個 (2) 有 ( 4 ) 個  
 (3) 有 ( 7 ) 個 (4) 有 ( 5 ) 個

解 三 分分看，填填看：每格4分，共56分

圖卡  
圖卡

- (1) 把形狀一樣圖卡分成一堆：  
 ① 三角形的圖卡有 ( 5 ) 張。  
 ② 圓形的圖卡有 ( 10 ) 張。  
 ③ 正方形的圖卡有 ( 6 ) 張。  
 ④ 長方形的圖卡有 ( 3 ) 張。
- (2) 把顏色一樣圖卡分成一堆：  
 ① 白色的圖卡有 ( 13 ) 張。  
 ② 藍色的圖卡有 ( 11 ) 張。
- (3) 把大小一樣圖卡分成一堆：  
 ① 大的三角形的圖卡有 ( 2 ) 張。  
 ② 小的三角形的圖卡有 ( 3 ) 張。  
 ③ 大的圓形的圖卡有 ( 3 ) 張。  
 ④ 小的圓形的圖卡有 ( 7 ) 張。  
 ⑤ 大的長方形的圖卡有 ( 1 ) 張。  
 ⑥ 小的長方形的圖卡有 ( 2 ) 張。  
 ⑦ 大的正方形的圖卡有 ( 2 ) 張。  
 ⑧ 小的正方形的圖卡有 ( 4 ) 張。



## 第22回


## 9. 做紀錄

◎範圍：完成和報讀統計表

得分

解 一 數數看，各有幾隻？先完成下表，再回答問題：每答4分，共56分

◎答問題：每答4分，共56分



(1) 依照上圖，把結果用「正」字畫記，並填上數量。

種類	蝴蝶	青蛙	蜻蜓	小鳥	瓢蟲
畫記	正正一	正	下	正一	正下
數量(隻)	11	5	3	6	8

- (2) 蝴蝶比小鳥多 ( 5 ) 隻。
- (3) 數量最多的動物是 ( 蝴蝶 )。
- (4) 數量最少的動物是 ( 蜻蜓 )。
- (5) 瓢蟲和青蛙共有 ( 13 ) 隻。
- (6) 蜻蜓和蝴蝶相差 ( 8 ) 隻。
- (7) 全部共有 ( 33 ) 隻動物。

解 二 下面是小文、阿力和阿友三人投籃比賽的紀錄表，「○」表示投進，「×」表示沒投進，看表回答問題：每格4分，共44分

第幾次 名字	1	2	3	4	5	6	7	8	9	10
小文	○	○	×	×	×	○	○	○	○	×
阿力	×	○	○	×	×	×	○	○	×	×
阿友	○	×	○	○	×	○	×	○	○	○

(1) 依照上表，把投進的結果用「正」字畫記。

名字	小文	阿力	阿友
畫記	正一	正	正下

- (2) 小文投進 ( 6 ) 球，阿力投進 ( 4 ) 球，阿友投進 ( 7 ) 球。
- (3) 阿友比阿力多投進 ( 3 ) 球，阿友比小文多投進 ( 1 ) 球。
- (4) 阿力和小文投進的球數合起來比阿友多 ( 3 ) 球。
- (5) 小文和阿友共投進 ( 13 ) 球。
- (6) 三人共投進 ( 17 ) 球。



# 第23回

## 加油站二

南南已經關過4個關卡，再完成剩下的4個關卡，就可以看到信件內容了！

### 解 一 第五關：月曆題

◎ 下圖是10月的月曆，看圖填填看：

10月						
日	一	二	三	四	五	六
				1	2	3
4	5	6	7	8	9	10
11	12	13	14	15	16	17
18	19	20	21	22	23	24
25	26	27	28	29	30	31

- (1) 中秋節是(10)月(1)日，星期(四)。
- (2) 今天(10)月(20)日，明天是南南的生日，是(10)月(21)日，星期(三)。



### 解 二 第六關：錢幣題

漢堡

55元

三明治

35元

牛奶

34元

(1) 小照想買一瓶牛奶，他的錢夠不夠？



(夠，不夠)

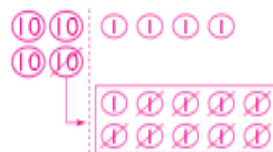
(2) 小貴有8個100-yen coins，他想買一個漢堡，

最少要付(6)個100-yen coins才夠。

### 解 三 第七關：環保題

◎ 配合政府推動的減塑政策，良心飲料店推出優惠活動，買飲料再加9元可獲得一個造型環保袋。南南買飲料並加購一個環保袋，共花了44元，她買了幾元的飲料？

算式： $44 - 9 = 35$



(35)元

### 解 四 第八關：統計題

◎ 按照國字的「意思」和「顏色」分別用「正」字畫記，並填上數量：

紅 灰 黑 藍 紅 灰 藍 紅 藍  
 藍 黑 藍 灰 灰 藍 灰 黑 灰

意思	紅	藍	灰	黑
畫記	下	正一	正	下
數量(個)	3	6	5	3

顏色	黑色	藍色	灰色
畫記	正T	正一	正
數量(個)	7	6	4

終於關過8個關卡，南南滿懷期待的打開信件，並開心的看信件內容！

